


č.projektu: CZ-1.07/1.4.00/21.0877

Výukový materiál MA-třída II.(1.-2.roč.)- mladší žáci

Vzdělávací oblast: Číslo a číselné operace v oboru do 100

POČÍTANÍ S KRTKEM. JMÉNO: _____

① SEČTI TEČKY DOMINA:



② NAPIŠ ČÍSLICE


3

 5

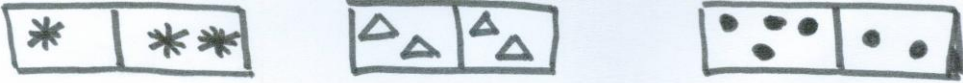
 6

 2

③ ROZLOŽ



④ POROVNEJ



⑤ VYPOČTI:

$2 + _ = 5$ $6 - 2 = _$ $2 + 4 = _$
 $3 + _ = 4$ $5 - 3 = _$ $5 + 0 = _$

IČ 75016311

Autor: Lenka Soumarová, 1/2012

www.malaskola.cz

Výukový materiál určen pro 1.ročník ZŠ