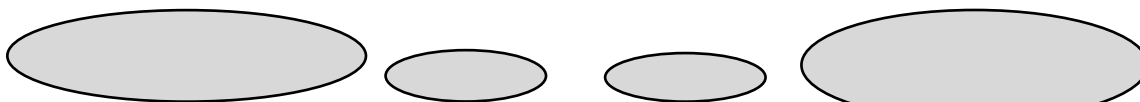

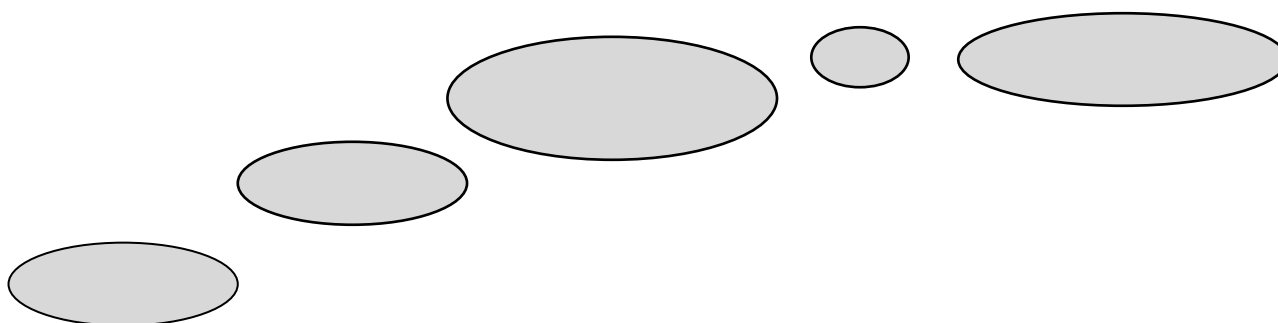


č.projektu: CZ-1.07/1.4.00/21.0877

Výukový materiál MA-třída II.(1.-2.roč.)- mladší žáci

Vzdělávací oblast: Číslo a číselné operace v oboru do 100

Kolik skoků po kamínkách musí zajíček udělat, aby se dostal k mrkvičkám?



Na které cestičky bude skákat nejvíce a na které nejméně?

Základní škola a Mateřská škola Suchý Důl, Suchý Důl 24, 549 62

IČ 75016311

www.malaskola.cz

Autor: Lenka Soumarová, 1/2012

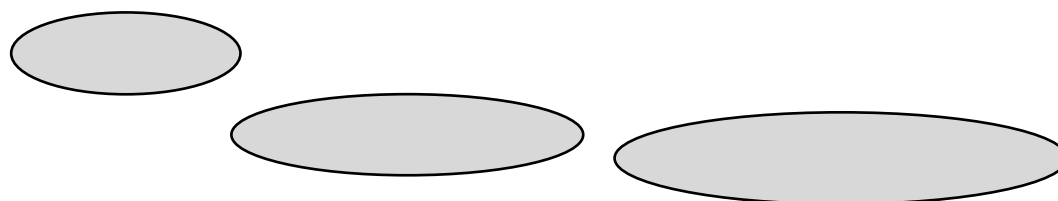
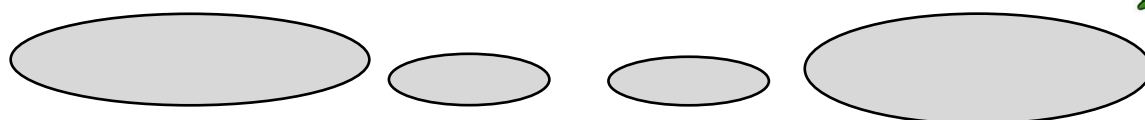
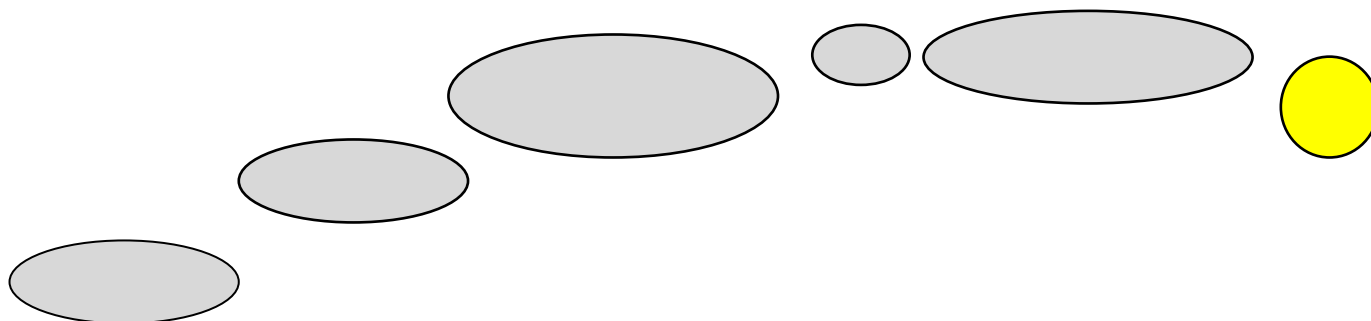
Výukový materiál určen pro 1.ročník ZŠ

Pracovní list:

Učitel doplní libovolnou kombinaci číselného hada podle pravidel krokování.



Vypočítej k jakému číslu se zajíček dostane, když přeskáče kamínky podle zadání.



http://xn--omalovny-51a.eu/omalov%C3%A1nky/mrkve_2022/vybarven%C3%A9/mrkve_27

http://www.kralicekmisa.estranky.cz/fotoalbum/napady_omalovanky-a-ostatni/velikonocni-kralicek.gif.html

Základní škola a Mateřská škola Suchý Důl, Suchý Důl 24, 549 62

IČ 75016311

www.malaskola.cz

Autor: Lenka Soumarová, 1/2012

Výukový materiál určen pro 1.ročník ZŠ



evropský
sociální
fond v ČR



EVROPSKÁ UNIE



MINISTERSTVO ŠKOLSTVÍ,
MLÁDEŽE A TĚLOVÝCHOVY



OP Vzdělávání
pro konkurenceschopnost

INVESTICE DO ROZVOJE VZDĚLÁVÁNÍ