

č.projektu: CZ-1.07/1.4.00/21.0877

Výukový materiál MA-třída II.(1.-2.roč.)- mladší žáci

Vzdělávací oblast: Číslo a číselné operace v oboru do 100

Napiš svoje jméno_____ a dnešní datum_____**Vypočti příklad**

$36 - (16 : 4) =$

$(18 : 3) \cdot 3 =$

$63 - (36 : 4) =$

$(30 : 5) \cdot 5 =$

$(5 \cdot 3) + 74 =$

$(7 \cdot 3) + 25 =$

Vypočti příklad

$0 + 30 =$

$30 + 20 =$

$20 + 80 =$

$30 + 30 =$

$20 + 60 =$

$70 + 20 =$

Vypočti příklad

$79 - 29 =$

$52 - 46 =$

$46 - 2 =$

$25 + 25 =$

$15 - 14 =$

$81 + 12 =$

Doplň příklad

$\underline{\quad} + 70 = 95$

$59 + \underline{\quad} = 76$

$\underline{\quad} - 25 = 71$

$15 - \underline{\quad} = 8$

$35 + \underline{\quad} = 55$

$\underline{\quad} - 4 = 42$

Základní škola a Mateřská škola Suchý Důl, Suchý Důl 24, 549 62

IČ 75016311

www.malaskola.cz

Autor: Lenka Soumarová, 1/2012

Výukový materiál určen pro 1.ročník ZŠ

evropský
sociální
fond v ČR

EVROPSKÁ UNIE

MINISTERSTVO ŠKOLSTVÍ,
MLÁDEŽE A TĚLOVÝCHOVYOP Vzdělávání
pro konkurenceschopnost

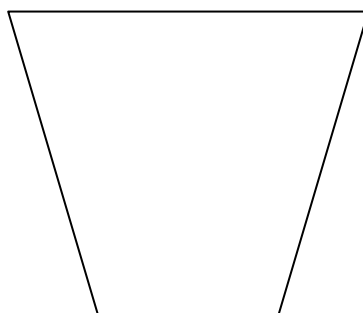

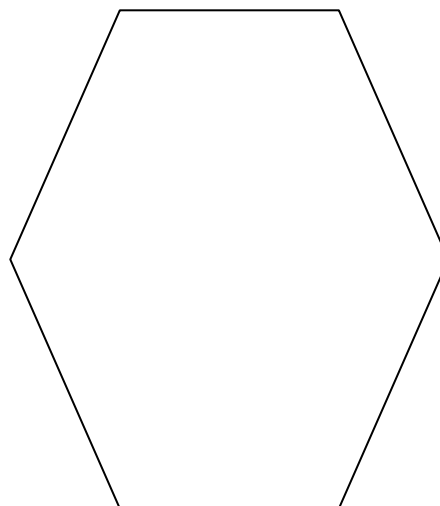
INVESTICE DO ROZVOJE VZDĚLÁVÁNÍ

Narýsuj podle pravítka úsečku AB dlouhou 5 cm a úsečku KL dlouhou 8 cm.

Pojmenuj správně geometrické obrazce



Pojmenuj správně geometrické obrazce a barevně vyznač 2 protilehlé strany.



Základní škola a Mateřská škola Suchý Důl, Suchý Důl 24, 549 62

IČ 75016311

www.malaskola.cz

Autor: Lenka Soumarová, 1/2012

Výukový materiál určen pro 1.ročník ZŠ